




# Сложение

Помоги Максиму заполнить пустые места в примерах на сложение наклейками с числами.


Найди наклейки внутри книги.



и



равно




3

+




=



и



равно



+



=

